



Τελική εξέταση, Τετάρτη 23 Ιανουαρίου

Βάρος κάθε υποερωτήματος: 0.5 μονάδες. Σύνολο μονάδων: 10

1. Σε έναν ιστότοπο που έχετε σχεδιάσει, στις 9 πρώτες επισκέψεις που έγιναν ο όγκος δεδομένων που μεταφέρθηκε από τον ιστότοπο προς τους επισκέπτες ήταν

# επίσκεψης	1	2	3	4	5	6	7	8	9
όγκος δεδομένων (MB)	17	18	17	20	14	25	15	20	23

όπου η μέση τιμή τους είναι 18.8 MB και η τυπική απόκλιση 3.6 MB.

- Δώστε το *boxplot* της κατανομής του όγκου των δεδομένων.
- Εκτιμήστε τον μελλοντικό μέσο όγκο δεδομένων ανά επίσκεψη στον ιστότοπο σας δίνοντας ένα 90% διάστημα εμπιστοσύνης.
- Πιστεύετε ότι το επίπεδο εμπιστοσύνης είναι όντως 90%, παρόλο που το πλήθος των επισκέψεων είναι μικρό; Δικαιολογήστε την απάντησή σας.
- Από τον ιστότοπο αποκομίζετε έσοδα από διαφημίσεις που προβάλλονται στους επισκέπτες. Για να επιτύχετε ικανοποιητικά έσοδα, προσδοκάτε ότι τουλάχιστον 50% των επισκεπτών θα είναι από την Ελλάδα. Από τις 9 παραπάνω επισκέψεις οι 8 ήταν από την Ελλάδα. Εκτιμάτε ότι θα πετύχετε τον στόχο στα έσοδα; Δικαιολογήστε την απάντησή σας χρησιμοποιώντας στατιστική συμπερασματολογία.
- Πόσες επισκέψεις θα έπρεπε να δείτε προτού μπορέσετε να εκτιμήσετε το ποσοστό των επισκέψεων από Ελλάδα με περιθώριο λάθους μικρότερου του 1% σε επίπεδο εμπιστοσύνης 95%;
- Μετά από κάποιες αλλαγές στο σχεδιασμό του ιστοτόπου, παρατηρείτε ότι στις πρώτες 16 επισκέψεις μεταφέρθηκε ο όγκος δεδομένων που δίδεται στον πίνακα:

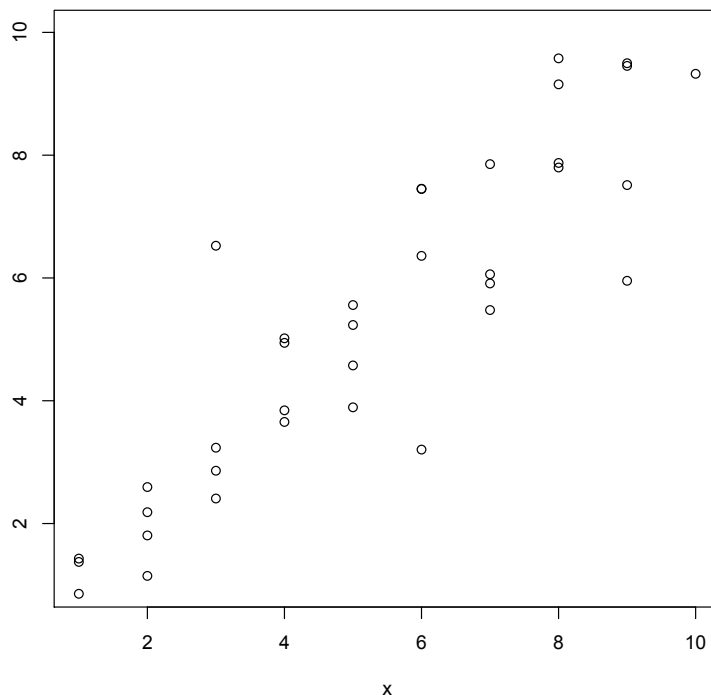
# επίσκεψης	1	2	3	4	5	6	7	8	9	10	11	12	13	14	15	16
όγκος δεδομένων (MB)	16	15	18	19	14	28	13	21	22	20	12	29	18	23	19	18

όπου η μέση τιμή είναι 19.1 MB και η τυπική απόκλιση είναι 4.8 MB.

Δώστε το *stemplot* της κατανομής του όγκου δεδομένων που μεταφέρθηκε.

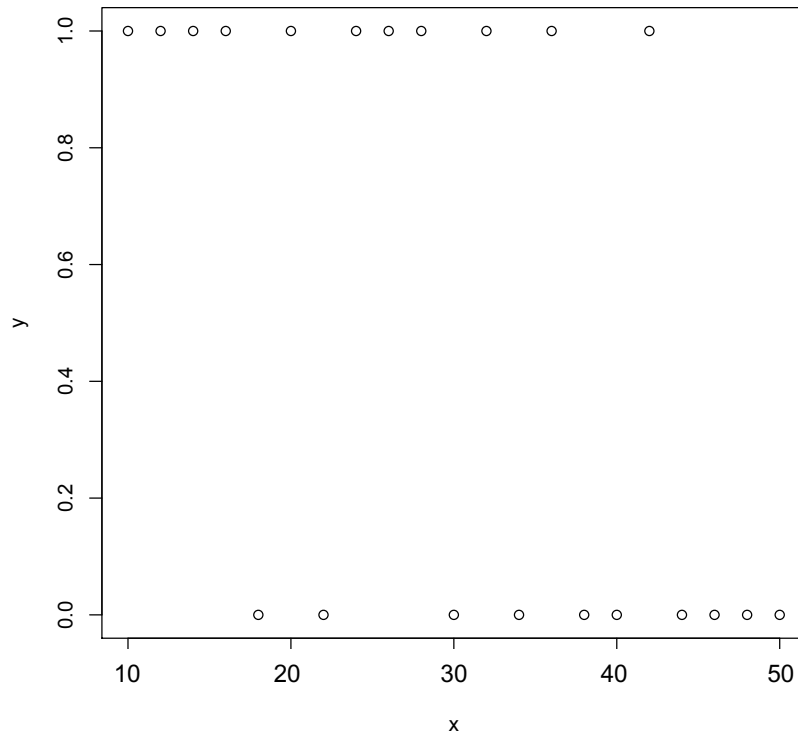
- Πιστεύετε ότι οι αλλαγές στον σχεδιασμό του ιστοτόπου επηρέασαν τον μέσο όγκο δεδομένων που μεταφέρεται; Δικαιολογήστε την απάντησή σας χρησιμοποιώντας στατιστική συμπερασματολογία.
- Από τις παραπάνω 16 επισκέψεις, οι 8 προέρχονται από την Ελλάδα. Πιστεύετε ότι οι αλλαγές στον σχεδιασμό του ιστοτόπου επηρέασαν το ποσοστό των επισκέψεων που προέρχεται από Ελλάδα; Δικαιολογήστε την απάντησή σας χρησιμοποιώντας στατιστική συμπερασματολογία.

2. Το ποσοστό του πληθυσμού που κατοικεί σε αστικές, ημιαστικές και αγροτικές περιοχές είναι $1/2$, $1/3$ και $1/6$ αντίστοιχα. Σε έναν διαγωνισμό συμμετέχουν 18 διαγωνιζόμενοι όπου οι 5 κατοικούν σε αστική περιοχή, 9 σε ημιαστική και 4 σε αγροτική.
- Πιστεύετε ότι ο διαγωνισμός απευθύνεται εξίσου σε όλα τα μέλη του πληθυσμού ανεξάρτητα του τόπου κατοικίας τους ή συσχετίζεται ο τόπος κατοικίας με τη συμμετοχή στον διαγωνισμό; Δικαιολογήστε την απάντησή σας χρησιμοποιώντας στατιστική συμπερασματολογία.
 - Σε έναν άλλο διαγωνισμό, από τους 20 συμμετέχοντες, οι 14 κατοικούν σε αστική περιοχή και από 3 σε ημιαστική και αγροτική περιοχή. Η πληθυσμιακή σύνθεση στην οποία απευθύνεται αυτός ο διαγωνισμός διαφέρει από αυτήν που απευθύνεται ο παραπάνω διαγωνισμός; (Δώστε μια αριθμητική έκφραση που υπολογίζει την τιμή του στατιστικού ελέγχου για τον έλεγχο που θα επιλέξετε να εφαρμόσετε – δεν χρειάζεται να προχωρήσετε στον υπολογισμό της τιμής και του p value που αντιστοιχεί).
3. Δίδεται το παρακάτω scatterplot το οποίο αναπαριστά τη σχέση μεταξύ των μεταβλητών x (στον οριζόντιο άξονα) και y (στον κάθετο άξονα), όπου $s_x = 1.2$ και $s_y = 1$ και $\bar{x} = 5.2$.



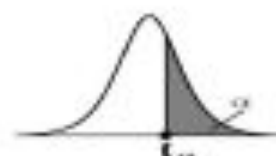
- Σχεδιάστε την ευθεία γραμμικής παλινδρόμησης πάνω στο scatterplot.
- Δώστε τη συναρτησιακή μορφή της (δηλ., τον τύπο) της ευθείας αυτής.
- Υπολογίστε τη μέση τιμή \bar{y} της μεταβλητής y .
- Δώστε την τιμή του συντελεστή συσχέτισης.
- Διατυπώστε ένα έλεγχο σημαντικότητας για την ύπαρξη συσχέτισης μεταξύ των μεταβλητών. Ποιόν εκτιμητή θα χρησιμοποιήσετε στο στατιστικό έλεγχο; (Δεν χρειάζεται να εκτελέσετε τον έλεγχο.)
- Σχολιάστε την καταλληλότητα των συγκεκριμένων δεδομένων για την εφαρμογή του ελέγχου στο (ε).

4. Μια δειγματοληπτική έρευνα έχει μετρήσει τη σχέση του οικογενειακού εισοδήματος φοιτητών με το εάν εργάζονται ή όχι, όπου τα αποτελέσματα απεικονίζονται στο παρακάτω scatterplot. Η μεταβλητή x στον οριζόντιο άξονα είναι το οικογενειακό εισόδημα (σε χιλιάδες ευρώ) και στον κάθετο άξονα απεικονίζονται οι τιμές της μεταβλητής y όπου η τιμή 1 και 0 αντιστοιχεί σε φοιτητή που εργάζεται ή όχι αντίστοιχα.



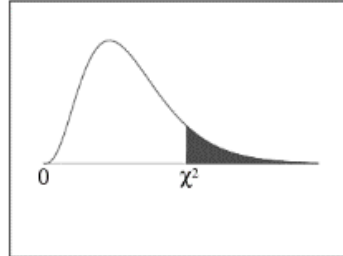
- Σχεδιάστε ενδεικτικά το αποτέλεσμα της λογιστικής παλινδρόμησης, πάνω στο scatterplot.
- Εκτιμήστε τον λόγο των φοιτητών που εργάζονται προς αυτών που δεν εργάζονται, ανάμεσα στους φοιτητές με οικογενειακό εισόδημα 20 χιλιάδες ευρώ. Κάντε το ίδιο για τους φοιτητές με οικογενειακό εισόδημα 40 χιλιάδες ευρώ.
- Δώστε τη συναρτησιακή μορφή της λογιστικής παλινδρόμησης (δηλ., τον τύπο της) για το συγκεκριμένο δείγμα.
- Εάν επιλέγατε ένα τυχαίο φοιτητή ο οποίος έχει οικογενειακό εισόδημα 32 χιλιάδες ευρώ, προβλέπετε ότι εργάζεται ή όχι;

Percentage Points of the t Distribution; $t_{v, \alpha}$
 $P(T > t_{v, \alpha}) = \alpha$



v	α													
	0.40	0.30	0.20	0.15	0.10	0.05	0.025	0.02	0.015	0.01	0.0075	0.005	0.0025	0.0005
1	0.325	0.727	1.376	1.963	3.078	6.314	12.706	15.895	21.205	31.821	42.434	63.657	127.322	636.590
2	0.289	0.617	1.061	1.386	1.886	2.920	4.303	4.849	5.643	6.965	8.073	9.925	14.089	31.598
3	0.277	0.584	0.978	1.250	1.638	2.353	3.182	3.482	3.896	4.541	5.047	5.841	7.453	12.924
4	0.271	0.569	0.941	1.190	1.533	2.132	2.776	2.999	3.298	3.747	4.088	4.604	5.598	8.610
5	0.267	0.559	0.920	1.156	1.476	2.015	2.571	2.757	3.003	3.365	3.634	4.032	4.773	6.869
6	0.265	0.553	0.906	1.134	1.440	1.943	2.447	2.612	2.829	3.143	3.372	3.707	4.317	5.959
7	0.263	0.549	0.896	1.119	1.415	1.895	2.365	2.517	2.715	2.998	3.203	3.499	4.029	5.408
8	0.262	0.546	0.889	1.108	1.397	1.860	2.306	2.449	2.634	2.896	3.085	3.355	3.833	5.041
9	0.261	0.543	0.883	1.100	1.383	1.833	2.262	2.398	2.574	2.821	2.998	3.250	3.690	4.781
10	0.260	0.542	0.879	1.093	1.372	1.812	2.228	2.359	2.527	2.764	2.932	3.169	3.581	4.587
11	0.260	0.540	0.876	1.088	1.363	1.796	2.201	2.328	2.491	2.718	2.879	3.106	3.497	4.437
12	0.259	0.539	0.873	1.083	1.356	1.782	2.179	2.303	2.461	2.681	2.836	3.055	3.428	4.318
13	0.259	0.538	0.870	1.079	1.350	1.771	2.160	2.282	2.436	2.650	2.801	3.012	3.372	4.221
14	0.258	0.537	0.868	1.076	1.345	1.761	2.145	2.264	2.415	2.624	2.771	2.977	3.326	4.140
15	0.258	0.536	0.866	1.074	1.341	1.753	2.131	2.249	2.397	2.602	2.746	2.947	3.286	4.073
16	0.258	0.535	0.865	1.071	1.337	1.746	2.120	2.235	2.382	2.583	2.724	2.921	3.252	4.015
17	0.257	0.534	0.863	1.069	1.333	1.740	2.110	2.224	2.368	2.567	2.706	2.898	3.222	3.965
18	0.257	0.534	0.862	1.067	1.330	1.734	2.101	2.214	2.356	2.552	2.689	2.878	3.197	3.922
19	0.257	0.533	0.861	1.066	1.328	1.729	2.093	2.205	2.346	2.539	2.674	2.861	3.174	3.883
20	0.257	0.533	0.860	1.064	1.325	1.725	2.086	2.197	2.336	2.528	2.661	2.845	3.153	3.850
21	0.257	0.532	0.859	1.063	1.323	1.721	2.080	2.189	2.328	2.518	2.649	2.831	3.135	3.819
22	0.256	0.532	0.858	1.061	1.321	1.717	2.074	2.183	2.320	2.508	2.639	2.819	3.119	3.792
23	0.256	0.532	0.858	1.060	1.319	1.714	2.069	2.177	2.313	2.500	2.629	2.807	3.104	3.768
24	0.256	0.531	0.857	1.059	1.318	1.711	2.064	2.172	2.307	2.492	2.620	2.797	3.091	3.745
25	0.256	0.531	0.856	1.058	1.316	1.708	2.060	2.167	2.301	2.485	2.612	2.787	3.078	3.725
26	0.256	0.531	0.856	1.058	1.315	1.706	2.056	2.162	2.296	2.479	2.605	2.779	3.067	3.707
27	0.256	0.531	0.855	1.057	1.314	1.703	2.052	2.158	2.291	2.473	2.598	2.771	3.057	3.690
28	0.256	0.530	0.855	1.056	1.313	1.701	2.048	2.154	2.286	2.467	2.592	2.763	3.047	3.674
29	0.256	0.530	0.854	1.055	1.311	1.699	2.045	2.150	2.282	2.462	2.586	2.756	3.038	3.659
30	0.256	0.530	0.854	1.055	1.310	1.697	2.042	2.147	2.278	2.457	2.581	2.750	3.030	3.646
40	0.255	0.529	0.851	1.050	1.303	1.684	2.021	2.123	2.250	2.423	2.542	2.704	2.971	3.551
60	0.254	0.527	0.848	1.045	1.296	1.671	2.000	2.099	2.223	2.390	2.504	2.660	2.915	3.460
120	0.254	0.526	0.845	1.041	1.289	1.658	1.980	2.076	2.196	2.358	2.468	2.617	2.860	3.373
∞	0.253	0.524	0.842	1.036	1.282	1.645	1.960	2.054	2.170	2.326	2.432	2.576	2.807	3.291

Chi-Square Distribution Table



The shaded area is equal to α for $\chi^2 = \chi^2_{\alpha}$.

<i>df</i>	$\chi^2_{.995}$	$\chi^2_{.990}$	$\chi^2_{.975}$	$\chi^2_{.950}$	$\chi^2_{.900}$	$\chi^2_{.100}$	$\chi^2_{.050}$	$\chi^2_{.025}$	$\chi^2_{.010}$	$\chi^2_{.005}$
1	0.000	0.000	0.001	0.004	0.016	2.706	3.841	5.024	6.635	7.879
2	0.010	0.020	0.051	0.103	0.211	4.605	5.991	7.378	9.210	10.597
3	0.072	0.115	0.216	0.352	0.584	6.251	7.815	9.348	11.345	12.838
4	0.207	0.297	0.484	0.711	1.064	7.779	9.488	11.143	13.277	14.860
5	0.412	0.554	0.831	1.145	1.610	9.236	11.070	12.833	15.086	16.750
6	0.676	0.872	1.237	1.635	2.204	10.645	12.592	14.449	16.812	18.548
7	0.989	1.239	1.690	2.167	2.833	12.017	14.067	16.013	18.475	20.278
8	1.344	1.646	2.180	2.733	3.490	13.362	15.507	17.535	20.090	21.955
9	1.735	2.088	2.700	3.325	4.168	14.684	16.919	19.023	21.666	23.589
10	2.156	2.558	3.247	3.940	4.865	15.987	18.307	20.483	23.209	25.188
11	2.603	3.053	3.816	4.575	5.578	17.275	19.675	21.920	24.725	26.757
12	3.074	3.571	4.404	5.226	6.304	18.549	21.026	23.337	26.217	28.300
13	3.565	4.107	5.009	5.892	7.042	19.812	22.362	24.736	27.688	29.819
14	4.075	4.660	5.629	6.571	7.790	21.064	23.685	26.119	29.141	31.319
15	4.601	5.229	6.262	7.261	8.547	22.307	24.996	27.488	30.578	32.801
16	5.142	5.812	6.908	7.962	9.312	23.542	26.296	28.845	32.000	34.267
17	5.697	6.408	7.564	8.672	10.085	24.769	27.587	30.191	33.409	35.718
18	6.265	7.015	8.231	9.390	10.865	25.989	28.869	31.526	34.805	37.156
19	6.844	7.633	8.907	10.117	11.651	27.204	30.144	32.852	36.191	38.582
20	7.434	8.260	9.591	10.851	12.443	28.412	31.410	34.170	37.566	39.997
21	8.034	8.897	10.283	11.591	13.240	29.615	32.671	35.479	38.932	41.401
22	8.643	9.542	10.982	12.338	14.041	30.813	33.924	36.781	40.289	42.796
23	9.260	10.196	11.689	13.091	14.848	32.007	35.172	38.076	41.638	44.181
24	9.886	10.856	12.401	13.848	15.659	33.196	36.415	39.364	42.980	45.559
25	10.520	11.524	13.120	14.611	16.473	34.382	37.652	40.646	44.314	46.928
26	11.160	12.198	13.844	15.379	17.292	35.563	38.885	41.923	45.642	48.290
27	11.808	12.879	14.573	16.151	18.114	36.741	40.113	43.195	46.963	49.645
28	12.461	13.565	15.308	16.928	18.939	37.916	41.337	44.461	48.278	50.993
29	13.121	14.256	16.047	17.708	19.768	39.087	42.557	45.722	49.588	52.336
30	13.787	14.953	16.791	18.493	20.599	40.256	43.773	46.979	50.892	53.672
40	20.707	22.164	24.433	26.509	29.051	51.805	55.758	59.342	63.691	66.766
50	27.991	29.707	32.357	34.764	37.689	63.167	67.505	71.420	76.154	79.490
60	35.534	37.485	40.482	43.188	46.459	74.397	79.082	83.298	88.379	91.952
70	43.275	45.442	48.758	51.739	55.329	85.527	90.531	95.023	100.425	104.215
80	51.172	53.540	57.153	60.391	64.278	96.578	101.879	106.629	112.329	116.321
90	59.196	61.754	65.647	69.126	73.291	107.565	113.145	118.136	124.116	128.299
100	67.328	70.065	74.222	77.929	82.358	118.498	124.342	129.561	135.807	140.169